

سؤالات امتحان نهایی درس : فیزیک ۳	رشته : ریاضی فیزیک	نام و نام خانوادگی :	مدت امتحان : ۱۱۰ دقیقه
پایه دوازدهم دوره دوم متوسطه	تعداد صفحه : ۳	تاریخ امتحان : ۱۳۹۸ / ۳ / ۵	ساعت شروع : ۸ صبح
دانش آموزان روزانه، بزرگسال و داوطلبان آزاد سراسر کشور در نوبت خرداد ماه سال ۱۳۹۸	مرکز سنجش و پایش کیفیت آموزشی http://aee.medu.ir		

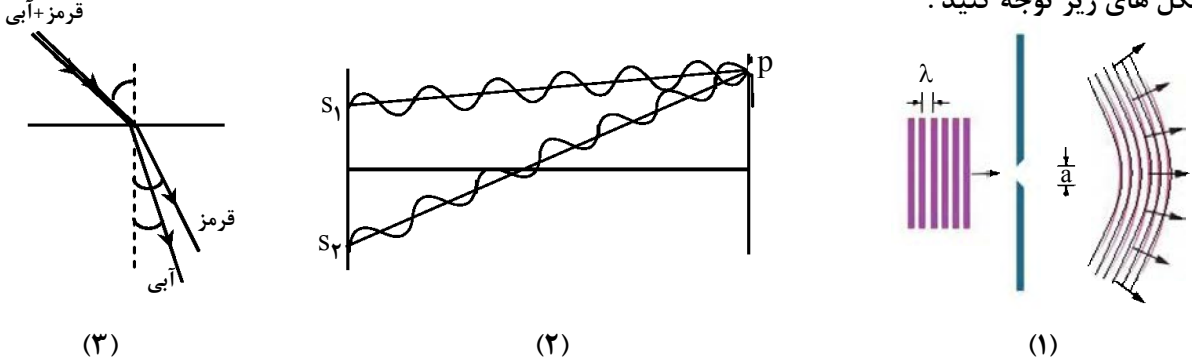

توجه : استفاده از ماشین حساب ساده (دارای چهار عمل اصلی ، جذر و درصد) بلامانع است .

ردیف	سؤالات (پاسخ نامه دارد)	نمره
۱	در جمله های زیر ، عبارت درست را از داخل پرانتز انتخاب کرده و در پاسخ برگ بنویسید : (الف) در حرکت (با شتاب ثابت - یکنواخت) بر خط راست ، سرعت متوسط و سرعت لحظه ای با هم برابرند . (ب) سطح محصور بین نمودار سرعت - زمان و محور زمان برابر تغییر (مکان - سرعت) است . (پ) در حرکت کندشونده روی خط راست ، بردارهای سرعت و شتاب (هم جهت - در خلاف جهت هم) هستند . (ت) عقربه تندی سنج خودروها ، تندی (متوسط - لحظه ای) را نشان می دهند .	۱
۲	معادله حرکت جسمی که روی خط راست حرکت می کند ، در SI به صورت $x = 6t^2 - 5t - 10$ است . (الف) سرعت اولیه جسم را تعیین کنید . (ب) سرعت متوسط جسم را بین دو لحظه $t_1 = 0$ و $t_2 = 2$ s حساب کنید .	۰/۲۵ ۱
۳	نمودار سرعت - زمان حرکت سقوط آزاد یک جسم مطابق شکل است : (الف) زمان سقوط جسم (t) را بدست آورید . (ب) ارتفاع سقوط چقدر بوده است ؟ (پ) نمودار مکان - زمان آن را رسم کنید .	۰/۵ ۰/۵ ۰/۵
۴	درستی یا نادرستی جمله های زیر را با علامت های (د) یا (ن) مشخص کنید . (الف) لختی ، به خاصیتی در اجسام می گویند که می خواهند وضعیت حرکت خود را تغییر دهند . (ب) تغییر تکانه ناشی از نیروی متوسط برابر با تغییر تکانه نیروی واقعی متغیر با زمان است . (پ) نیروی مقاومت یک شاره مانند هوا ، به تندی حرکت جسم بستگی دارد . (ت) نیروهای کنش و واکنش هم نوع نیستند و اثرات یکسانی ایجاد می کنند . (ث) مربع دوره گردش ماهواره ها به دور زمین ، متناسب با مکعب فاصله آن ها از مرکز زمین است .	۱/۲۵
۵	مطابق شکل، نیروی افقی \vec{F}_1 بر جعبه وارد می شود ، اما جعبه هم چنان ساکن است . اگر در همین حالت ، بزرگی نیروی قائم \vec{F}_2 از صفر شروع به افزایش کند ، کمیت های زیر چگونه تغییر می کنند ؟ (الف) اندازه نیروی عمودی سطح وارد بر جعبه (ب) اندازه نیروی اصطکاک ایستایی وارد بر جعبه (پ) اندازه بیشینه نیروی اصطکاک ایستایی (ت) نیروی خالص وارد بر جسم	۱
	ادامه سؤالات در صفحه دوم	

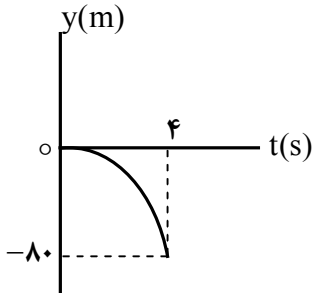
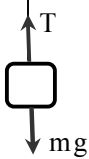
سؤالات امتحان نهایی درس : فیزیک ۳	رشته : ریاضی فیزیک	نام و نام خانوادگی :	مدت امتحان : ۱۱۰ دقیقه
پایه دوازدهم دوره دوم متوسطه	تعداد صفحه : ۳	تاریخ امتحان : ۱۳۹۸ / ۳ / ۵	ساعت شروع : ۸ صبح
دانش آموزان روزانه، بزرگسال و داوطلبان آزاد سراسر کشور در نوبت خرداد ماه سال ۱۳۹۸	مرکز سنجش و پایش کیفیت آموزشی http://aee.medu.ir		

ردیف	سؤالات (پاسخ نامه دارد)	نمره												
۶	الف) جسمی به وزن ۶۰ نیوتون را با طناب سبکی به طرف بالا می کشیم . اگر شتاب ثابت رو به بالای جسم 2 m/s^2 باشد ، نیروهای وارد بر جسم را رسم کرده و نیروی کشش طناب را بدست آورید . ($g = 10 \text{ m/s}^2$) ب) تندی نوک عقربه ثانیه شمار یک ساعت دیواری به طول ۱۰ cm را حساب کنید .	۰/۷۵												
۷	در جمله های زیر ، جاهای خالی را با کلمه های مناسب تکمیل کنید : الف) افزایش جرم در یک سامانه جرم - فنر ، باعث می شود که دوره نوسان ها شود . ب) انرژی مکانیکی هر نوسانگر هماهنگ ساده ، با مربع دامنه است . پ) نوسان هایی با اعمال یک نیروی خارجی ، نوسان های نام دارند . ت) یکای در SI ، وات بر متر مربع (W/m^2) است .	۱												
۸	شکل زیر ، جهت های حرکت یک چشمه صوتی و یک ناظر (شنونده) را در وضعیت های مختلف نشان می دهد : <table border="1"> <thead> <tr> <th>وضعیت</th><th>چشمه</th><th>ناظر</th></tr> </thead> <tbody> <tr> <td>(a)</td><td>●</td><td>☺</td></tr> <tr> <td>(b)</td><td>● →</td><td>☺</td></tr> <tr> <td>(c)</td><td>●</td><td>☺ →</td></tr> </tbody> </table> <p>بسامدی را که ناظر در وضعیت های (b) و (c) می شنود ، با وضعیت (a) مقایسه کنید .</p>	وضعیت	چشمه	ناظر	(a)	●	☺	(b)	● →	☺	(c)	●	☺ →	۰/۵
وضعیت	چشمه	ناظر												
(a)	●	☺												
(b)	● →	☺												
(c)	●	☺ →												
۹	شکل روبه رو ، یک موج سینوسی را در لحظه ای از زمان در یک ریسمان کشیده شده، نشان می دهد . الف) اگر تندی موج $1/2 \text{ m/s}$ باشد ، بسامد موج چند هرتز است ؟ ب) نقطه M ریسمان ، در این لحظه بالا می رود یا پایین ؟	۱ ۰/۲۵												
۱۰	معادله حرکت هماهنگ ساده یک نوسانگر در SI به صورت $x = 0.05 \cos 5\pi t$ است . در چه لحظه ای پس از زمان صفر، برای دومین بار انرژی جنبشی آن بیشینه می شود ؟	۱												
۱۱	به پرسش های زیر پاسخ کوتاه دهید : الف) تأخیر زمانی بین دو صوت چقدر باشد تا گوش انسان پژواک را از صوت مستقیم اولیه تمیز دهد ؟ ب) در آزمایش یانگ اگر بجای نور قرمز از نور آبی استفاده کنیم ، پهنای نوارها کاهش می یابند یا افزایش ؟ پ) اجاق های میکروموج (مایکروفر) ، بر چه اساسی کار می کنند ؟ ت) آیا در بازتاب پخشنده ، زاویه تابش و زاویه بازتابش با هم برابرند ؟	۱												
	ادامه سؤالات در صفحه سوم													

سؤالات امتحان نهایی درس : فیزیک ۳	رشته : ریاضی فیزیک	نام و نام خانوادگی :	مدت امتحان : ۱۱۰ دقیقه
پایه دوازدهم دوره دوم متوسطه	تعداد صفحه : ۳	تاریخ امتحان : ۱۳۹۸ / ۳ / ۵	ساعت شروع : ۸ صبح
دانش آموزان روزانه، بزرگسال و داوطلبان آزاد سراسر کشور در نوبت خرداد ماه سال ۱۳۹۸	مرکز سنجش و پایش کیفیت آموزشی http://aee.medu.ir		

ردیف	سؤالات (پاسخ نامه دارد)	نمره
۱۲	<p>به شکل های زیر توجه کنید :</p>  <p>(۱) (۲) (۳)</p> <p>الف) شکل (۱)، نشان دهنده کدام پدیده در برهم کنش موج با محیط است و در چه صورتی رخ می دهد ؟ ب) در شکل (۲)، در نقطه p تداخل سازنده است یا ویرانگر ؟ و چه نواری تشکیل می شود ؟ پ) در شکل (۳)، ضریب شکست محیط دوم برای نور قرمز بیشتر است یا آبی ؟ تندی کدام نور بیشتر است ؟</p>	<p>۰/۵ ۰/۵ ۰/۵</p>
۱۳	اگر بسامد اصلی یک تار ویولن به طول ۸۰ cm برابر با ۲۰۰ Hz باشد، تندی موج در تار را بدست آورید .	۰/۷۵
۱۴	<p>الف) ویژگی ترازهای شبه پایدار در محیط لیزری چیست ؟ ب) با توجه به شکل، یک اشکال مدل اتمی رادرفورد را در مورد پایداری اتم توضیح دهید .</p> 	<p>۰/۵ ۰/۵</p>
۱۵	<p>طول موج آستانه برای اثر فوتوالکتریک در یک فلز معین ۳۱۰ nm است . الف) تابع کار فلز را حساب کنید . ب) اگر K_{max} برای فوتوالکترن ها ۲/۲ eV باشد، طول موج نور فرودی چند نانومتر است ؟</p> <p>($hc = 1240 \text{ eV} \cdot \text{nm}$)</p>	<p>۰/۵ ۰/۵</p>
۱۶	کوتاه ترین طول موج رشته پاشن ($n' = 3$) در اتم هیدروژن را بدست آورید . ($R = 0.01 \text{ nm}^{-1}$)	۰/۷۵
۱۷	<p>الف) چرا واکنش زنجیری به طور طبیعی در معادن اورانیم رخ نمی دهد ؟ ب) چه نیرویی در اتم، نوکلئون ها را در کنار یکدیگر نگه می دارد ؟ پ) جای خالی داده شده را که ممکن است مربوط به یک یا چند ذره آلفا یا بتا باشد، کامل کنید : ${}^{11}_6\text{C} \rightarrow {}^{11}_5\text{B} + \dots$</p>	<p>۰/۵ ۰/۲۵ ۰/۵</p>
۱۸	از یک ماده رادیواکتیو پس از گذشت ۱۳۵ روز، $\frac{7}{8}$ ماده فعال اولیه، واپاشیده شده است. نیمه عمر این ماده چند روز است ؟	۱/۲۵
	موفق و سربلند باشید	۲۰

راهنمای تصحیح امتحان نهایی درس فیزیک ۳	رشته : ریاضی فیزیک
پایه دوازدهم دوره دوم متوسطه	تاریخ امتحان : ۱۳۹۸ / ۳ / ۵
دانش آموزان روزانه، بزرگسال و داوطلبان آزاد سراسر کشور در نوبت خرداد ماه سال ۱۳۹۸	مرکز سنجش و پایش کیفیت آموزشی http://aee.medu.ir

ردیف	پاسخ ها	نمره
۱	الف) یکنواخت (ب) مکان (پ) در خلاف جهت هم (ت) لحظه ای هر مورد (۰/۲۵) ص ۱۳ و ۱۷ و ۱۶ و ۹	۱
۲	الف) (۰/۲۵) $v_o = -5 \text{ m/s}$ ب) (۰/۲۵) $x_r = (6 \times 4) - (5 \times 2) - 10 = 4 \text{ m}$ (۰/۲۵) $v_{av} = \frac{4 - (-10)}{2} = 7 \text{ m/s}$ ب) (۰/۲۵) $x_l = -10 \text{ m}$ (۰/۲۵) $v_{av} = \frac{\Delta x}{\Delta t}$ ص ۵	۱/۲۵
۳	الف) (۰/۲۵) $t = \frac{-40}{-10} = 4 \text{ s}$ ب) (۰/۲۵) $h = \Delta y = \frac{1600}{20} = 80 \text{ m}$ پ) رسم نمودار (۰/۵) الف) (۰/۲۵) $v = -gt$ ب) (۰/۲۵) $v^2 = -2g \Delta y$ رسم نمودار:  ص ۲۴	۱/۵
۴	الف) (ن) (ب) (د) (پ) (ن) (ت) (د) (ث) هر مورد (۰/۲۵) ص ۳۱ و ۴۷ و ۳۶ و ۵۶	۱/۲۵
۵	الف) افزایش می یابد (ب) ثابت می ماند (پ) افزایش می یابد (ت) ثابت می ماند هر مورد (۰/۲۵) ص ۵۸	۱
۶	الف) (۰/۲۵) $T - 60 = 6 \times (2)$ (۰/۲۵) $T = 72 \text{ N}$ ب) (۰/۲۵) $v = \frac{\pi}{300} \text{ m/s}$ (۰/۲۵) $v = \frac{2\pi}{60} \times 0.1$ (۰/۲۵) $T - mg = ma$ رسم شکل: (۰/۲۵)  ص ۴۵	۱/۷۵
۷	الف) بیشتر (ب) متناسب (پ) واداشته (ت) شدت صوت هر مورد (۰/۲۵) ص ۶۵ و ۶۷ و ۶۸ و ۶۹	۱
۸	$f_c < f_a$ و $f_b > f_a$ هر مورد (۰/۲۵) ص ۸۸	۰/۵
۹	الف) (۰/۲۵) $f = \frac{1/2}{0.24} = 5 \text{ Hz}$ ب) پایین (۰/۲۵) (۰/۲۵) $f = \frac{v}{\lambda}$ (۰/۵) $\frac{\lambda}{2} = 12 \rightarrow \lambda = 24 \text{ cm}$ ص ۸۶	۱/۲۵
۱۰	(۰/۲۵) $T = \frac{2\pi}{5\pi} = 0.4 \text{ s}$ (۰/۲۵) $t = 0.3 \text{ s}$ (۰/۲۵) $T = \frac{2\pi}{\omega}$ (۰/۲۵) $t = \frac{3T}{4}$ ص ۸۵	۱
	ادامه پاسخ ها در صفحه دوم	

راهنمای تصحیح امتحان نهایی درس فیزیک ۳	رشته : ریاضی فیزیک
پایه دوازدهم دوره دوم متوسطه	تاریخ امتحان : ۱۳۹۸ / ۳ / ۵
دانش آموزان روزانه، بزرگسال و داوطلبان آزاد سراسر کشور در نوبت خرداد ماه سال ۱۳۹۸	مرکز سنجش و پایش کیفیت آموزشی http://aee.medu.ir

ردیف	پاسخ ها	نمره
۱۱	الف) ۰/۱ ثانیه پ) تداخل امواج الکترومغاطیسی (یا تشکیل امواج ایستاده) ب) کاهش می یابند ت) بله هر مورد (۰/۲۵) ص ۴۵	۱
۱۲	الف) پراش (۰/۲۵) ، اندازه شکاف از مرتبه طول موج باشد (۰/۲۵) ب) تداخل ویرانگر (۰/۲۵) ، تاریک (۰/۲۵) پ) آبی (۰/۲۵) ، قرمز (۰/۲۵) ص ۱۰۰ و ۱۰۲ و ۱۰۴	۱/۵
۱۳	$f = \frac{nv}{\lambda L}$ (۰/۲۵) $200 = \frac{1 \times v}{2 \times 0.8}$ (۰/۲۵) $v = 320 \text{ m/s}$ (۰/۲۵) ص ۱۰۷	۰/۷۵
۱۴	الف) در این ترازها ، الکترون ها مدت زمان بیشتری نسبت به حالت برانگیخته معمولی باقی می ماند و فرصت بیشتری برای افزایش وارونی جمعیت و در نتیجه تقویت نور لیزر را فراهم می کنند . (۰/۵) ب) اگر الکترون ها را نسبت به هسته ساکن فرض کنیم ، باید تحت تأثیر نیروی ربایشی الکتریکی ، روی هسته سقوط کنند و در نتیجه پایداری اتم از بین می رود . (۰/۵) ص ۱۲۱ و ۱۲۶	۱
۱۵	الف) $W_0 = \frac{hc}{\lambda_0}$ (۰/۲۵) $W_0 = \frac{1240}{310} = 4 \text{ eV}$ (۰/۲۵) ب) $K_{\max} = \frac{hc}{\lambda} - W_0$ (۰/۲۵) $2/2 = \frac{1240}{\lambda} - 4$ $\lambda = \frac{1240}{6/2} = 200 \text{ nm}$ (۰/۲۵) ص ۱۲۰	۱
۱۶	$\frac{1}{\lambda} = R \left(\frac{1}{n_1^2} - \frac{1}{n_2^2} \right)$ (۰/۲۵) $\frac{1}{\lambda} = \frac{1}{100} \left(\frac{1}{9} - 0 \right)$ (۰/۲۵) $\lambda = 900 \text{ nm}$ (۰/۲۵) ص ۱۲۳	۰/۷۵
۱۷	الف) چون فراوانی ایزوتوپ ۲۳۵ حدود ۰/۷۲ درصد است و احتمال اینکه ایزوتوپ ۲۳۸ بتواند توسط نوترونی شکافته شود ، بسیار کم است . (۰/۵) ب) نیروی هسته ای (۰/۲۵) پ) (^+_1e) ۳ (۰/۵) ص ۱۳۹ و ۱۴۰ و ۱۴۴	۱/۲۵
۱۸	$N = \frac{N_0}{2^n}$ (۰/۲۵) $\frac{1}{8} N_0 = \frac{1}{2^n} N_0$ (۰/۲۵) $n = 3$ (۰/۲۵) $n = \frac{t}{T}$ (۰/۲۵) $3 = \frac{135}{T}$ $T = 45 \text{ روز}$ (۰/۲۵) ص ۱۴۷	۱/۲۵
۲۰	همکاران محترم ، ضمن عرض خسته نباشید لطفاً برای پاسخ های درست دیگر ، نمره لازم را در نظر بگیرید .	